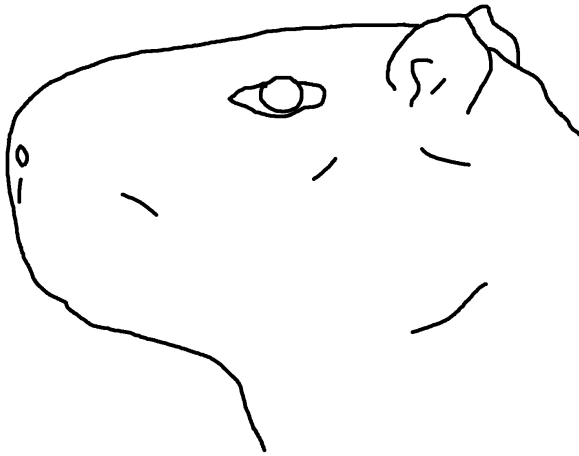





Auf den Mund geschaut (Basiskonzept Struktur und Funktion)

Wasserschwein	Timberwolf
	
Berberlöwe	Somali-Wildesel
	

Aufgaben:

Gehe vor die Anlage der 4 Tiere und zeichne ihren Mund in die Abbildungen ein. Achte besonders auf die Länge der Mundspalte.

Trage die bevorzugte Nahrung der Arten in die Zeile unter der Abbildung ein.

Erstelle einen Zusammenhang zwischen der Länge der Mundspalte und der Nahrung der Tiere.

Erkläre diesen gefundenen Zusammenhang zwischen Mundlänge und Ernährung der Tiere.